

La flaque

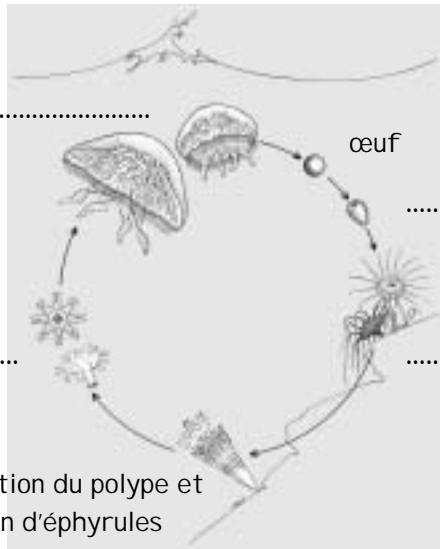
Retrouve l'embranchement de ces animaux.



.....

Les méduses

Complète le cycle de reproduction des méduses avec les mots : méduses adultes - polype - éphyrules - larve planula.



.....

Strobilation du polype et libération d'éphyrules



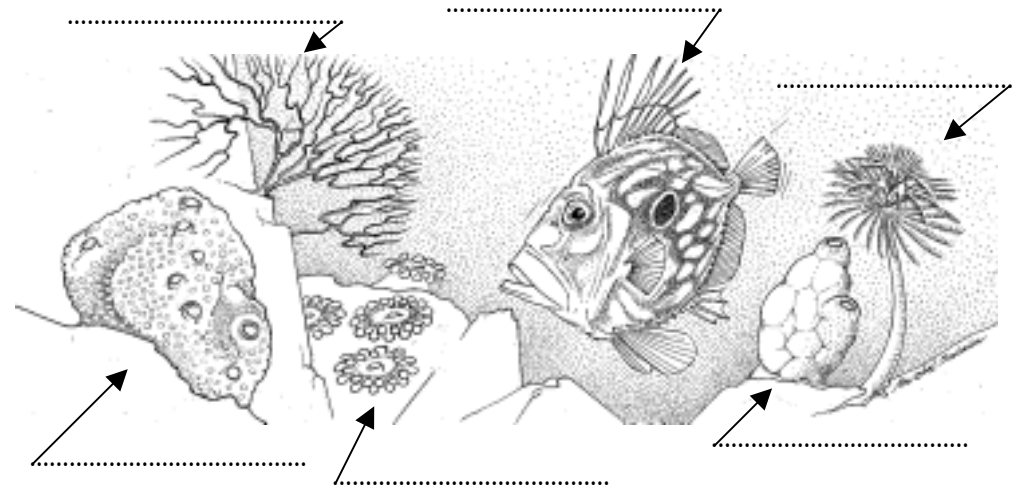
Conception Océanopolis - Illustrations: C.Déniel/ M.Salatin - Infographie : SEV

LE PAVILLON TEMPÉRÉ

Promenade sur les fonds marins bretons

La paroi rocheuse

Repère ces six animaux dans l'aquarium.
 Ecris leurs noms sur le dessin.



Deux des animaux dessinés aspirent et filtrent l'eau.

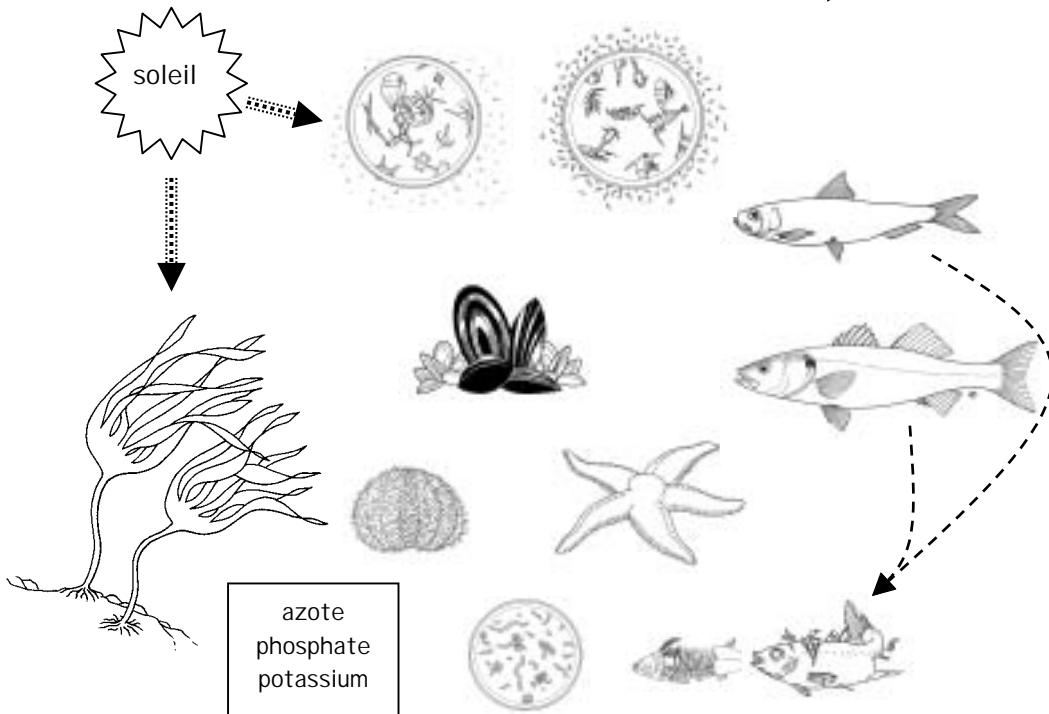
Quel est le nom de ces animaux ?

 Que collectent-ils ?

Le sais-tu ? La clione est une éponge qui peut filtrer 70 litres d'eau de mer par heure.

Les relations alimentaires

Crée des chaînes alimentaires (est mangé par) →




Quel est le premier maillon de la chaîne alimentaire ?

Complète les phrases avec les mots : brouteur - filtreur - prédateur.

- L'oursin se nourrit d'algues, c'est un
- Les moules se nourrissent d'algues microscopiques, ce sont des
- L'étoile de mer se nourrit de coquilles Saint-Jacques, c'est un

Naissance d'un océan

Numérote dans l'ordre les différentes étapes de la formation d'un océan.



L'estran rocheux

Qu'est ce que l'estran ?
Indique sur le schéma, les niveaux de pleine mer et basse mer dans le cas des mortes-eaux et des vives-eaux.

